

باسمه تعالی

تاریخ امتحان : ۹۳/۳/۱۱

نام واحد آموزشی :

مدت : ۸۰ دقیقه

وزارت آموزش و پرورش



اداره کل آموزش و پرورش استان خراسان رضوی

سوالات هماهنگ خردادماه

نام و نام خانوادگی :

سوالات امتحان درس : علوم

کلاس : پنجم

بارم	صفحه ۱	ردیف
۰/۵	<p>«مناسب‌ترین گزینه را مشخص کنید»</p> <p>کدام قسمت بدن جانور، امکان فسیل شدنش کم‌تر است؟</p> <p>الف) دندان <input type="checkbox"/> ب) استخوان <input type="checkbox"/> ج) گوشت <input type="checkbox"/> د) صدف <input type="checkbox"/></p>	۱
۰/۵	<p>در کدام اهرم، جای تکیه‌گاه با بقیه متفاوت است؟</p> <p>الف)  <input type="checkbox"/> ب)  <input type="checkbox"/> ج)  <input type="checkbox"/> د)  <input type="checkbox"/></p>	۲
۰/۵	<p>کدام مورد شباهت ذره‌بین و کوره‌ی آفتابی است؟</p> <p>الف) بازتابش نور <input type="checkbox"/> ب) شکست نور <input type="checkbox"/> ج) طرز ساخت <input type="checkbox"/> د) تشکیل کانون <input type="checkbox"/></p>	۳
۰/۵	<p>صالح در گردش علمی، خاک قرمز رنگی را مشاهده کرد. به نظر شما رنگ خاک به علت ترکیب اکسیژن با کدام ماده است؟</p> <p>الف) آهن <input type="checkbox"/> ب) اکسیژن <input type="checkbox"/> ج) نئیدروژن <input type="checkbox"/> د) نمک <input type="checkbox"/></p>	۴
۰/۵	<p>قارچ‌ها عامل کدام مورد زیر نمی‌باشند؟</p> <p>الف) انگل گندم <input type="checkbox"/> ب) بیماری پوستی <input type="checkbox"/> ج) تجزیه‌ی گیاهان مرده <input type="checkbox"/> د) سرماخوردگی <input type="checkbox"/></p>	۵
۰/۵	<p>تصویر روبرو روش تولید مثل کدام جاندار را نشان می‌دهد؟</p> <p>الف) باکتری <input type="checkbox"/> ب) مخمر <input type="checkbox"/> ج) ویروس <input type="checkbox"/> د) جلبک <input type="checkbox"/></p> <p></p>	۶
۰/۵	<p>کار مبارزه با میکروب‌ها در همه جای داخل بدن وظیفه‌ی اصلی کدام مورد است؟</p> <p>الف) اسید معده <input type="checkbox"/> ب) گلبول سفید <input type="checkbox"/> ج) مخاط <input type="checkbox"/> د) بزاق دهان <input type="checkbox"/></p>	۷
۰/۵	<p>سنگ‌های نرم و خمیری در کدام قسمت زمین یافت می‌شوند؟</p> <p>الف) پوسته <input type="checkbox"/> ب) قسمت بیرونی هسته <input type="checkbox"/> ج) گوشته <input type="checkbox"/> د) قسمت درونی هسته <input type="checkbox"/></p>	۸
غلط	<p>«صحیح یا غلط بودن جملات را مشخص کنید»</p> <p>۱</p> <p>یکی از شرایط دیدن جسم این است که نور بازتابش شده از آن به چشم ما برسد.</p> <p>۲ هر چه ذرات خاک ریزتر باشد، سرعت نفوذ آب در آن بیشتر است.</p> <p>۳ مواد مذابی که از آتشفشان خارج می‌شوند، مخروط آتشفشان را به وجود می‌آورند.</p> <p>صحیح</p> <p><input type="checkbox"/> <input type="checkbox"/></p> <p><input type="checkbox"/> <input type="checkbox"/></p> <p><input type="checkbox"/> <input type="checkbox"/></p>	

بارم		شماره
<input type="checkbox"/>	<input type="checkbox"/> صفحه ۱	۴ پنی سیلین نوعی جلبک است که باکتری‌ها را می‌کشد.

باسمه تعالی

تاریخ امتحان : ۹۳/۳/۱۱

وزارت آموزش و پرورش

نام واحد آموزشی :

اداره کل آموزش و پرورش استان خراسان رضوی

نام و نام خانوادگی :

مدت : ۸۰ دقیقه

سوالات امتحان درس : علوم

سوالات هماهنگ خردادماه

کلاس : پنجم

بارم	ردیف
۰/۷۵	<p>جمله های سمت راست را به کلمه های مناسب در سمت چپ وصل کنید. (یک کلمه اضافی است)</p> <p>۱ ماده ای که میکروب ها را در بیرون از بدن می کشد. ☼ مخاط</p> <p>۲ گلبول های سفید را به پادتن سازی وادار می کند. ☼ گلبول قرمز</p> <p>۳ سطح داخلی دهان و بینی با این ماده ی چسبناک پوشانده شده است. ☼ واکسن</p> <p>☼ ضد عفونی کننده</p>
۰/۷۵	<p>جاهای خالی را با کلمات مناسب پر کنید.</p> <p>۱ به مجموعه ی چند زنجیره ی غذایی که با یکدیگر مرتبط هستند، می گویند.</p> <p>۲ قسمت های اصلی دستگاه عصبی و می باشد.</p>
۱	<p>«جواب سوال ها را بنویسید»</p> <p>۱ برای اینکه ماشین اسباب بازی شما راحت تر به بالای بلندی برسد، کدام مسیر را انتخاب می کنید؟ (الف) <input type="checkbox"/> (ب) <input type="checkbox"/></p> <p>دلیل:</p> 
۱	<p>۲ آیا برای انجام دادن همه ی کارها می توانیم از نیروی ماهیچه استفاده کنیم؟ <input type="checkbox"/> بله <input type="checkbox"/> خیر</p> <p>دلیل:</p>
۱	<p>۳ آیا هنگام خوردن سالاد با چنگال، مزه ی چنگال را می فهمیم؟ <input type="checkbox"/> بله <input type="checkbox"/> خیر</p> <p>دلیل:</p>
۱	<p>۴ آیا قارچ ها می توانند غذاسازی کنند؟ <input type="checkbox"/> بله <input type="checkbox"/> خیر</p> <p>دلیل:</p>
۰/۷۵	<p>۵ تصاویر جانداران زیر را به ترتیب پیدایش در کره ی زمین شماره گذاری کنید.</p> 

بارم

شماره



صفحه ۲

باسمه تعالی

تاریخ امتحان : ۹۳/۳/۱۱

وزارت آموزش و پرورش

نام واحد آموزشی :

اداره کل آموزش و پرورش استان خراسان رضوی







نام و نام خانوادگی :



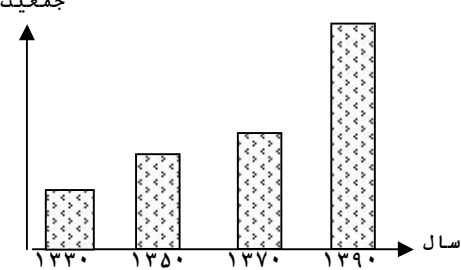

مدت : ۸۰ دقیقه

سوالات امتحان درس : علوم

سوالات هماهنگ خردادماه

کلاس : پنجم

بارم	ردیف						
۰/۷۵	۶						
 <input type="checkbox"/>	<p>به گونه‌ای شماره‌گذاری کنید که یک زنجیره‌ی غذایی مرتب شود.</p>  <input type="checkbox"/>						
 <input type="checkbox"/>	 <input type="checkbox"/>						
۱	۷						
 	<p>کبوتر و گنجشک را راهنمایی کنید تا الاکلنگ بازی کنند؟</p> <p>.....</p>						
۰/۵	۸						
.....	<p>در تشکیل رنگین کمان، چه چیزی مثل منشور عمل می‌کند؟</p> <p>.....</p>						
۱	۹						
<table border="1"> <thead> <tr> <th>تغییرات شیمیایی</th> <th>تغییرات فیزیکی</th> </tr> </thead> <tbody> <tr> <td>۱-</td> <td>۱-</td> </tr> <tr> <td>۲-</td> <td>۲-</td> </tr> </tbody> </table>	تغییرات شیمیایی	تغییرات فیزیکی	۱-	۱-	۲-	۲-	<p>با توجه به کلمات داخل کمانک جدول را کامل کنید. (تبخیر آب، پختن غذا، پاره کردن کاغذ، کپک زدن نان)</p>
تغییرات شیمیایی	تغییرات فیزیکی						
۱-	۱-						
۲-	۲-						
۰/۵	۱۰						
<p>با دو نوع اتم \bigcirc و \bullet مدل مولکولی مربوط به عنصر و ترکیب را رسم کنید.</p> <p>عنصر <input type="text"/></p> <p>ترکیب <input type="text"/></p>							
۱	۱۱						
	<p>دو فایده‌ی جلبک‌ها را بنویسید.</p> <p>۱-</p> <p>۲-</p>						
۰/۵	۱۲						
<p>از بین مکان‌های نوشته شده، جاهای امن (محل‌هایی که می‌توانیم به آنجا برویم) را در هنگام زلزله مشخص کنید و در جدول بنویسید.</p> <p>نزدیک کمد کتابخانه - آشپزخانه - زیر میز محکم - داخل چارچوب در - کنار پنجره</p> <p><input type="text"/> <input type="text"/></p>							

بارم		شماره
۱	<p>جاهای امن:</p> <p>صفحه ۳</p> <p>برای هر کدام (چشم و گوش) دو راه مراقبت بنویسید.</p> <div style="display: flex; justify-content: space-around;"> <div style="text-align: center;">  </div> <div style="text-align: center;">  </div> </div>	۱۳
۰/۵	<p>یکی از کارهای پوست را بنویسید.</p> <p>.....</p>	۱۴
۰/۵	<p>در چه صورتی گیاهان و جانوران، منابع جبران شدنی محسوب می شوند؟</p> <p>.....</p>	۱۵
۰/۵	<p>نمودار روبرو را تفسیر کنید.</p> <div style="display: flex; align-items: flex-start;"> <div style="margin-right: 20px;"> <p>جمعیت</p>  </div> <div> <p>.....</p> </div> </div>	۱۶
۰/۵	<p>زهر می خواهد با توجه به شکل اطلاعاتی درباره‌ی گذشته‌ی این مناطق به دست آورد. با نوشتن یک جمله یا طرح یک سوال در جمع آوری اطلاعات به او کمک کنید.</p> <div style="display: flex; justify-content: space-around;">  </div> <p>.....</p>	۱۷
۰/۵	<p>مهدی می گوید در محیط زیست ما «آلودگی صوتی» وجود دارد به نظر شما چه عواملی ممکن است باعث آلودگی صوتی شده باشد؟ (دو مورد)</p> <p>.....</p>	۱۸

باسمه تعالی

تاریخ امتحان : ۹۳/۳/۱۱

وزارت آموزش و پرورش

نام واحد آموزشی :

اداره کل آموزش و پرورش استان خراسان رضوی

نام و نام خانوادگی :

مدت : ۸۰ دقیقه

سوالات امتحان درس : علوم

سوالات هماهنگ خردادماه

کلاس : پنجم

بارم

ردیف

دانش آموز عزیز لطفاً در این قسمت چیزی ننویسید			
امضا	نام و نام خانوادگی مصحح	نمره با حروف	نمره با عدد
نام وامضای تجدیدنظرکننده :		نمره تجدیدنظر	

صفحه ۴